

МИНИСТЕРСТВО ОБРАЗОВАНИЯ И НАУКИ РЕСПУБЛИКИ БУРЯТИЯ  
ГОСУДАРСТВЕННОЕ БЮДЖЕТНОЕ ПРОФЕССИОНАЛЬНОЕ ОБРАЗОВАТЕЛЬНОЕ  
УЧРЕЖДЕНИЕ «БУРЯТСКИЙ РЕСПУБЛИКАНСКИЙ ИНФОРМАЦИОННО-  
ЭКОНОМИЧЕСКИЙ ТЕХНИКУМ» (ГБПОУ «БРИЭТ»)

ФОНД ОЦЕНОЧНЫХ СРЕДСТВ

для контроля и оценки результатов освоения дисциплины  
**МДК 08.02 «Графический дизайн и мультимедиа»**

программы подготовки специалистов среднего звена по специальности  
09.02.07 Информационные системы и программирование

Улан-Удэ  
2023

**Тестовое задание по МДК 08.02 «Графический дизайн и мультимедиа»  
(3 курс)**

Тест размещён в образовательном онлайн-сервисе Online Test Pad, с активной ссылкой <https://onlinetestpad.com/zqreqrlb2trvi>

Задание 1

**Каких два принципиально разных направления имеет современная компьютерная графика?**

- а . создание новых и оригинальных изображений
- б . редактирование имеющихся изображений
- в . создание кодировки для приложений
- г . анимация и 3D изображения

Задание 2

**Динамика формы появляется в настройках ...**

- а монтажной области
- б кисти
- в карандаша
- г геометрической фигуры

Задание 3

**К инструментам выделения относятся:(2 варианта)**

- а штамп
- б волшебная палочка
- в восстанавливающая кисть
- г прямолинейное и магнитное лассо

Задание 4

**Какие из перечисленных инструментов относятся к инструментам рисования?**

- а кисть
- б карандаш
- в градиент
- г заливка

Задание 5

**Какие настройки может иметь слой в документе Adobe Photoshop?**

- а стиль слоя
- б видимость
- в прозрачность
- г все вышеперечисленные

Задание 6

**Каких предустановленных наборов кистей не существует?**

- а кисти со специальными эффектами

б винтажные кисти

в сухие кисти

г мокрые кисти

Задание 7

**Какова функция параметра "Нажим" (Flow)?**

а добавление к основному пигменту дополнительного

б дополнение к основному мазку дополнительного контура, имитирующего нажим пера

в контролирование количества краски в начале и в конце мазка

г контролирование количества краски, которое будет использовано при каждом движении кисти

Задание 8

**Самым полезным свойством инструмента "Перо" является наличие ...**

а волнообразной структуры формы

б опорных точек и манипуляторов

в прямолинейной структуры формы

г выделение и заливка контуров

Задание 9

**Иерархия слоёв = ...**

а коллаж




б изображение

в новая форма

г контраст

Задание 10

Установите соответствие для иконок:



1 выбор семпла (образца) цвета

2 закрепление слоя

3 видимость слоя

Задание 11

**С какой зажатой клавишей можно убрать видимость слоёв кроме одного?**

а Shift

б Alt

в Ctrl

г Delete

ОТВЕТЫ:

1 а,б; 2- б; 3 – б,г, 4 – а,б; 5 – г; 6 - б; 7 – г; 8 – б; 9 – а; 10 – 1,2,3; 11 - б



